

Środowisko przyrodnicze Australii i Oceanii.

Klasa VIII (25.05.2020)

Co będę potrafił po lekcji:

- określe położenie Australii na podstawie mapy ogólnogeograficznej,
- omówię cechy środowiska przyrodniczego Australii,
- scharakteryzuję ukształtowanie powierzchni na podstawie mapy ogólnogeograficznej,
- wyjaśnię wpływ położenia Australii na klimat,
- omówię strefy klimatyczne na podstawie mapy klimatycznej,
- wymienię charakterystyczne cechy poszczególnych typów klimatu na podstawie klimatogramów,
- omówię strefowość roślinną na podstawie map tematycznych,
- scharakteryzuję wody powierzchniowe,
- wyjaśnię znaczenie terminu *basen artezyjski*,
- omówię zasoby wód artezyjskich i ich rolę w gospodarce kraju,
- określe położenie geograficzne i podział Oceanii na podstawie map ogólnogeograficznej i politycznej,
- scharakteryzuję środowisko geograficzne Oceanii,
- wymienię endemity w Australii i na wyspach Oceanii.

Ćwiczenie 1. Obejrzyj film na You Tube: <https://www.youtube.com/watch?v=Xkh-mp06b9w>

Ćwiczenie 2. Na podstawie filmu oraz informacji w podręczniku uzupełnij zdania:

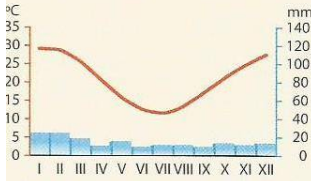

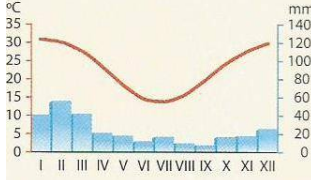

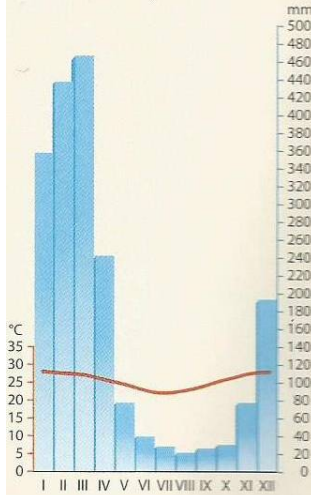

Australia to pod względem powierzchni kontynent na Ziemi. Leży na półkuli i Oblewają go wody Oceanu oraz Oceanu Przez środkową część kontynentu przebiega Zwrotnik

Ćwiczenie 3. Na podstawie mapy w podręczniku wpisz do tabeli główne formy rzeźby Australii.

zachodnia część kontynentu	centralna część kontynentu	wschodnia część kontynentu
Australia		
Najwyższy szczyt Australii:		
Najniżej położony punkt kontynentu:		

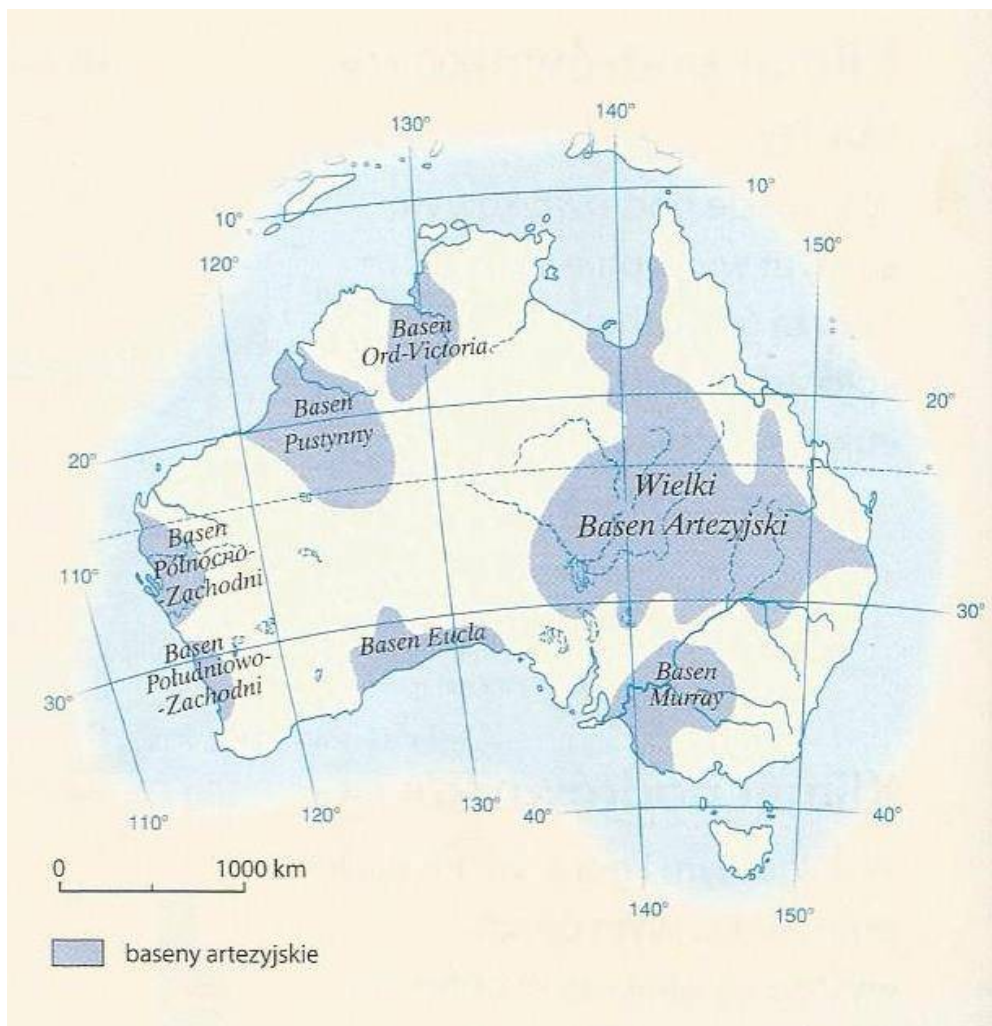
Ćwiczenie 4. Znajdź na mapie i zapamiętaj położenie następujących obiektów geograficznych:
 A. Zatoka Karpentaria. B. Przylądek Jork. C. Tasmania. D. Cieśnina Torresa. E. Wielkie Góry Wododziałowe.
 F. Ziemia Arnhema. G. Cieśnina Bassa. H. Nowa Zelandia. I. Wyżyna Zachodnioaustralijska J. Wielka Zatoka
 Australijska.

Ćwiczenie 5. Uzupełnij tabelę:

Strefa klimatyczna	Roślinność	Klimatogramy	Krajobrazy
		<p><i>Marree</i></p> 	
		<p><i>Windorah</i></p> 	
		<p><i>Ayton</i></p> 	

Ćwiczenie 6. Wyjaśnij znaczenie terminu „basen artezyjski”:

Ćwiczenie 7. Na podstawie mapy zaobserwuj położenie basenów artezyjskich. Zapamiętaj nazwę największego z nich:



Największym zbiornikiem australijskich wód podziemnych jest

Ćwiczenie 8. Na podstawie mapy na stronie 160 wymień główne regiony geograficzne Oceanii:

1.,
2.,
3.,
4.,

Ćwiczenie 9. Wymień endemity w Australii i na wyspach Oceanii.